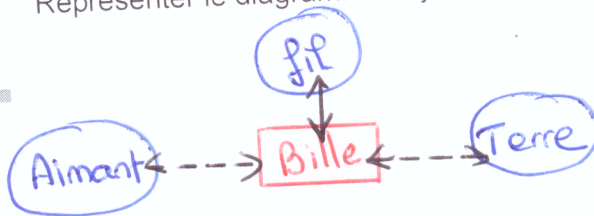
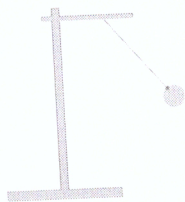
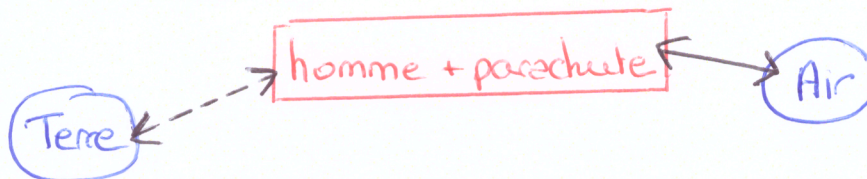


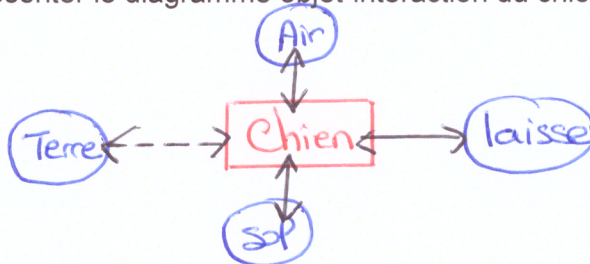
Représenter le diagramme objet-interaction de la bille :



Représenter le diagramme objet-interaction du parachutisme ( homme + parachute)



Représenter le diagramme objet-interaction du chien




Exercice 3

Flèche blanche

1- La force dessinée sur le schéma représente la force exercée :

- par le chien sur la laisse.
- par la laisse sur la maitresse.
- par la maitresse sur la laisse.



Données :  
•  $F = 390 \text{ N}$ .  
• Échelle : 1 cm correspond à une valeur de 100 N.

2- Un sportif prend appui sur un mur pour réaliser des étirements. Représente la force  $F$  exercée par le sportif sur le mur.